

UNIVERSAL  
LIBRARY

**OU-234424**

UNIVERSAL  
LIBRARY







۱۳۶۸ھ

# حساب کا کھیل کھلونا

مصنف

لاہ شہ و ریال صاحب ایم۔ اے  
اسسٹنٹ پروفیسر گورنمنٹ کالج لاہور

و  
لاہ بہاری لال صاحب ریاضی ٹیچر نارل اسکول لاہور

لاہور

راے صاحب منشی گلاب سنگھ اینڈ سنز  
ایجوکیشنل پبلشرز

۱۹۱۷ء

جملہ حقوق محفوظ ہیں

PRINTED AND PUBLISHED FOR  
RAI SAHIB M. GULAB SINGH & SONS,  
AT THE MUFID-I-'AM PRESS, LAHORE,  
BY R. E. L. MOHAN LAL.


---

1917.

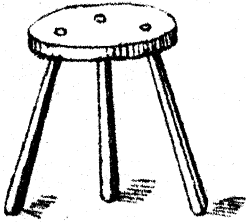
# فہرست مضامین

نمبر شمار	مضمون	نمبر صفحہ
۱	ایک سے دس تک گنتی	۱
۲۳	گیارہ سے بیس تک گنتی	۲
۲۹	اکیس سے تیس تک گنتی	۳
۳۳	اکیس سے چالیس تک گنتی	۴
۳۸	اکتالیس سے پچاس تک گنتی	۵
۴۲	اکیاون سے ساٹھ تک گنتی	۶
۴۵	اٹسٹھ سے ستر تک گنتی	۷
۴۸	اکتر سے اسی تک گنتی	۸
۵۱	اکیاسی سے نوے تک گنتی	۹
۵۲	اکیانوے سے تئانوے تک گنتی	۱۰

نمبر صفحہ	مضمون	نمبر شمار
۵۷	ایک سو . . . . .	۱۱
۶۳	پہاڑے . . . . .	۱۲
۷۲	ممتزق سوالات . . . . .	۱۳




ایک  
۱




تین  
۳



دو  
۲



پانچ  
۵




چار  
۴




۷

سات




۶

چھ



۹

نو



۸

آٹھ



۱۰



دس

# ایک سے دس تک گنتی



ایک آم - ایک پوٹی - ایک - ۱



دو چوڑے - دو آنکھیں - دو - ۲

زبانی سوالات

۱۔ تمہارے ہاتھ کتنے ہیں؟

۲ تمہارے پیر کتنے ہیں؟  
 ۳ تمہارے سر کتنے ہیں۔ اور آنکھیں  
 کتنی ہیں؟



۴ اس چڑیا کے پیر  
 کتنے ہیں؟



۵ یہ کتنی دوائیں ہیں؟

۶ یہ کتنی گولیاں ہیں؟  
 اس میں ایک گولی اور ملا دو۔ کتنی  
 گولیاں ہو گئیں؟

۷ یہ کتنی گولیاں ہیں؟  
 کتنی گولیاں نکال لیں۔ کہ ایک گولی  
 رہ جائے؟

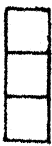


۸ کاپی میں دو خانوں کے

ارد گرد پنسل پھيرو +

۹ دو مکتب سے مختلف شکلیں بناؤ +

۱۰ رنگدار مَرَّج کو موڑ کر دُہرا کرو۔  
 بتاؤ۔ اُس کے کتنے حصے ہو گئے؟  
 ۱۱ ایک آم اور ایک آم مل کر کتنے  
 آم ہوتے؟



تین پتے۔ تین گولیاں۔ تین ۳  
 زبانی سوالات

۱ اس تہائی کی کتنی ٹانگیں ہیں؟

۲ سرکھڑے کے گودے

اور تیلیوں سے سامنے

کی شکل بناؤ۔ اور بتاؤ



اس میں کتنی تبدیلیاں لگیں۔ اور کتنی  
گودے کی گولیاں لگیں؟

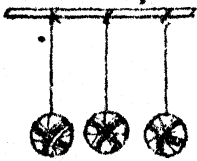
۳ اوپر کی شکل کے کنارے کتنے ہیں؟

۴ اوپر کی شکل کے کونے کتنے ہیں؟

اسے متکون کہتے ہیں +

۵ گولیوں کے چوکھٹے پر ۳ گولیاں نکالو +

۶ تین گیندیں نکالو۔



ایک مجھے دے دو۔

بناؤ۔ کتنی باقی

رہیں؟

۷ اگر دو مجھے دے دو۔ تو باقی کتنی

رہیں گی؟

۸ تین بڑکوں کو ایک ایک پیسہ دو۔

کل کتنے پیسے دئے؟


۹ مربع کاغذ کو موڑ کر متکون شکل بناؤ +



۱۰ کاپی پر تین خانے  
کی شکل بناؤ +

۱۱ تین کعبے لے کر مختلف شکلیں بناؤ +

۱۲ دو اور ایک کتنے ہونے۔ اور ایک  
اور دو کتنے؟



چار پوسلیں۔ چار آم۔ چار


زبانی سوالات

۱ اس گائے کے پیر کتنے ہیں؟

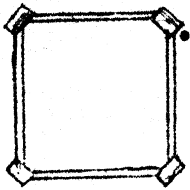
۲ آنکھیں کتنی

ہیں۔ اور سینگ

کتنے ہیں؟



۳ کمرے کی دیواریں کتنی ہیں۔ اور کونے



کتنے ہیں؟

۴ سرکھڑے کے گودے

کی گوریوں اور تیلیوں

سے ایسی شکل بناؤ۔ اور بھاؤ۔ اس

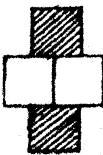
شکل کے کنارے کتنے ہیں۔ اور کونے

کتنے؟ ایسی شکل کو مربع کہتے ہیں +

۵ مربع کاغذ کے کونے اور کنارے گنو۔

۶ ایک ایک پیسہ کر کے چار پیسے گنو۔

چار پیسوں کا آٹہ ہوتا ہے +



۷ خانوں والی کاپی پر ایسی

شکل بناؤ۔ اور بھاؤ۔ اس

میں خالی خانے کتنے ہیں۔ اور سایہ دار

کتنے؟

۸ دو اور دو مل کر کتنے ہوتے؟

۹ یہ کتنی گوریاں ہیں؟ ●●●●  
 ان میں سے ایک گولی نکال دیں۔  
 تو باقی کتنی رہیں گی؟ دو نکال دیں۔  
 تو کتنی باقی رہیں گی؟ اور اگر تین  
 نکال دیں۔ تو کتنی رہیں گی؟

۱۰ چار مکعب لے کر مختلف شکلیں بناؤ۔

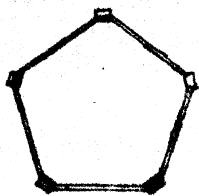
۱۱ اپنے قدم سے چار قدم فاصلہ ملو +  
 دو دو نے چار +



پانچ انگلیاں۔ پانچ گوریاں۔ پانچ ۵

زبانی سوالات

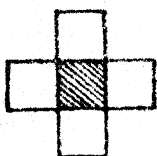
۱ گولیوں کے چوکھٹے پر ۵ گوریاں نکالو +



۲ سرکٹے کے گودے کی گولٹیوں اور تیلیوں سے ایسی شکل بناؤ۔  
 ۳ اس شکل کے کونے کتنے ہیں۔ اور کنارے کتنے؟



۴ اپنی پانچوں انگلیاں اٹھاؤ۔ ایک انگلی نیچے کرو۔ کتنی رہیں۔ دو نیچے کرو۔ کتنی رہیں؟ تین نیچے کرو۔ کتنی رہیں؟ چار نیچے کرو۔ اب کتنی رہیں؟

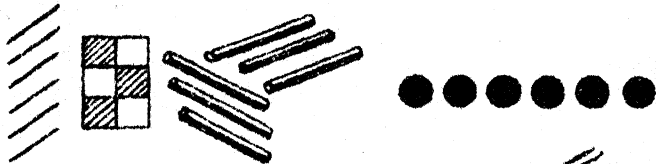


۵ اپنی کاپی پر پانچ خانوں کی شکل بناؤ۔  
 ۶ پانچ خانوں والی کوئی اور شکل بناؤ۔  
 ۷ اپنے قدم سے پانچ قدم فاصلہ پاؤ۔

۸ پانچ مکعب لے کر مختلف شکلیں بناؤ۔


۹ ایک ایک سیر کر کے پانچ سیر چیز  
تواؤ +

۱۰ ایک ایک کر کے پانچ تک گنو۔

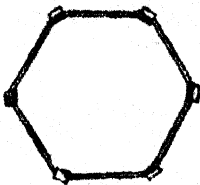


چھ گولیاں۔ چھ بیلیاں۔ چھ ۶

### زبانی سوالات



۱ اس پھول کی کتنی  
پتھڑیاں ہیں؟



۲ اس شکل کے کونے  
کتنے ہیں۔ اور کتنا  
کتنے؟


۳ یہ کتنی گولیاں ہیں۔ اس  
 میں دو دو گولیوں کی کتنی  
 قطاریں ہیں؟

۴ تین تین گولیوں کی کتنی قطاریں ہیں؟  
 ۵ دو دو گولیاں تین لڑکوں کو دو۔ گل  
 کتنی گولیاں دیں؟

۶ چھ خانوں کی شکل کاپی پر بناؤ +  
 ۷ فٹ رول سے چھ فٹ ماپو +  
 ۸ چھ مکتب لے کر مختلف شکلیں بناؤ +  
 ۹ ایک سے چھ تک گنو +  
 ۱۰ دو دو پیسے تین بار گنو +  
 دو تئیس چھ +  
 تین دوئے چھ +

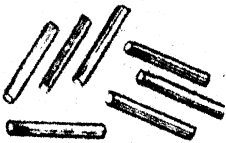


## سات کیسے



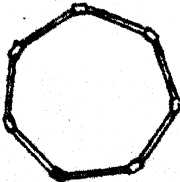
سات ہمارے سات ۷

## زبانی سوالات



۱ چھ تیریلیوں میں ایک تیریلی اور ملاؤ۔ گل کتنی


تیریلیاں ہوئیں؟



۲ اس شکل میں کتنے کونے ہیں۔ اور کتنے کنارے؟

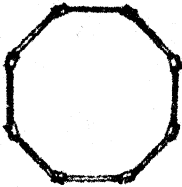
- ۳ اپنی کاپی پر سات خانوں کی شکل بناؤ۔
- ۴ سات مکعب لے کر مختلف شکلیں بناؤ۔
- ۵ بتاؤ یہ کتنی گولیاں ہیں ؟ ان کے درمیان مختلف
- 
- جگہ مٹھوا کھڑا کر کے ان کے دو حصے کرو۔ اور ہر حصے کی گولیاں گنو۔
- ۶ سو موار۔ منگل۔ بدھ۔ جمعرات۔ جمعہ۔ سینچر اور اتوار رمل کر ہفتہ بنتا ہے۔ بتاؤ۔ ہفتہ میں کتنے دن ہوئے؟
- ۷ ہفتہ میں اتوار کو چھٹی ہوتی ہے۔ بتاؤ۔ پڑھائی کتنے دن ہوتی ہے؟
- ۸ سات گولیوں میں سے تین گولیاں نکال لو۔ باقی کتنی گولیاں رہیں؟
- ۹ فٹ رول سے سات فٹ ماپو۔
- ۱۰ دو تیلیوں کو جوڑ کر ۷ بھاؤ۔

آٹھ گولیاں



آٹھ تیلیاں - آٹھ

زبانی سوالات



۱ اس شکل کے کونے

اور کنارے رگنو +

۲ مٹر کے دانوں اور



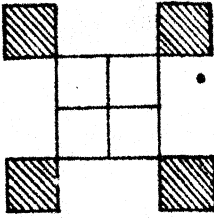
تیلیوں سے چارپائی

بناؤ۔ بناؤ۔ اس

میں کتنی تیلیاں

ہیں۔ اور کتنے دانے ہیں؟

۳ کون کون سی تیلیاں آپس میں برابر



۳ کاپنی پر آٹھ خانوں  
کی شکل بناؤ +

۵ آٹھ خانوں کی کوئی  
اور شکل بناؤ +

۶ اس سیڑھی میں کتنے  
ڈنڈے ہیں؟

۷ سامنے دو دو گولیوں  
کی کتنی قطاریں ہیں؟

۸ کل کتنی گولیاں ہیں؟

۹ چار چار گولیوں کی کتنی قطاریں ہیں؟

۱۰ آٹھ مکعب لے کر مختلف شکلیں بناؤ +

۱۰ ان گولیوں پر مختلف جگہ کاغذ رکھ کر آٹھ کے  
مختلف حصے بناؤ (چار ڈونے آٹھ +




نو روپے



۹




نو



نو تیلیاں

زبانی سوالات



۱ اپنے گولیوں کے چوکھٹے

پر ۹ ہیک رکنو +


۲ اس پتے پر کتنے

نشان ہائیں؟

۳ اپنی کاپی پر نو خالوں

کی شکل بناؤ +

۴ نو تیلیاں لے کر مختلف شکلیں بناؤ +



۵ سامنے تین تین

گولہوں کی کتنی

قطاریں ہیں؟ گل کتنی گولیاں ہیں؟

۶ نو صکعب لے کر مختلف شکلیں بناؤ +

۷ ان گولہوں پر کاغذ رکھ کر ۹ کے مختلف

حصے




کرو +

۸ فٹ رول لے کر نو فٹ ماپو +

۹ تین تین پیسوں کی تین قطاریں

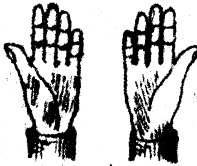

بناؤ۔ گل کتنے پیسے ہونے؟

تین تے نو +






# دس خانے



۱۰

## دس لکیریں دس

### زبانی سوالات



۱ اس تماش کے پتے

پر کتنے نشان ہیں؟

۲ تمہارے دونو ہاتھ کی


کتنی انگلیاں ہیں؟

۳ سامنے دو دو گولیوں

کی کتنی قطاریں ہیں؟ گل

کتنی گولیاں ہیں؟

۴ پانچ آم اور پانچ آم کتنے



آم ہوئے؟



۵ پانچ پانچ گولیوں کی



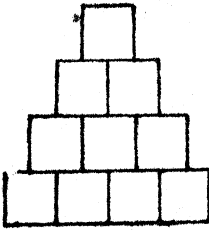
کتنی قطاریں ہیں؟

۶ ایک سے دس تک گنو +

۷ دس سے ایک تک اٹے گنو +

۸ دس مکعب لے کر مختلف شکلیں بناؤ +

۹ دس خانے کی شکل



کاپی پر بناؤ +

۱۰ ایک آم اور ۹ آم

کتنے ہوئے؟

۱۱ ان ۱۰

گولیوں پر مختلف جگہ کاغذ رکھ کر دس

کے مختلف حصے بناؤ +

۱۲ فٹ رول سے دس فٹ باپو +

پانچ دوئے دس +

## زبانی سوالات

- ۱ ۷ آم اور ۳ آم کتنے آم ہوتے؟
- ۲ دس آم میں سے آٹھ آم گئے۔ باقی کتنے رہے؟
- ۳ دس آم میں سے چار آم گئے۔ باقی کتنے رہے؟
- ۴ دو دو گولیاں دو جگہ کتنی گولیاں ہوں گی؟
- ۵ دو دو گولیاں تین جگہ کتنی گولیاں ہوں گی؟
- ۶ دو دو گولیاں چار جگہ کتنی گولیاں ہوں گی؟
- ۷ دو دو گولیاں پانچ جگہ کتنی گولیاں ہوں گی؟
- ۸ تین تین آم دو جگہ کتنے آم ہوتے؟

۹ تین تین آم جگہ کتنے ہوئے؟

۱۰ چار چار آم دو جگہ کتنے ہوئے؟

۱۱ پانچ پانچ آم دو جگہ کتنے ہوئے؟

۱۲ آٹھ گولیوں کے دو برابر حصے کرو +

۱۳ نو گولیوں کے تین برابر حصے کرو +

۱۴ دو دو کر کے دس تک گنؤ +

۱۵ ایک آنے کے چار پیسے۔ تو دو آنے

کے کتنے پیسے ہوئے؟

۱۶ ایک روٹی کی دو ادھی روٹیاں ہوتی

ہیں۔ تو دو روٹی کی کتنی ادھی روٹیاں

ہوں گی۔ اور تین

روٹی کی کتنی ادھی

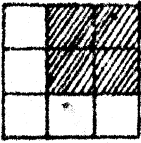
روٹیاں۔ اور چار کی

کتنی؟



۱۷ چھ سیب اور ۲ سیب مل کر کتنے

سیب ہوئے؟



۱۸ یہ کتنے خانے ہیں؟ ان

میں سے چار خانے نکال

دیں۔ تو کتنے رہیں گے؟

۱۹ اس گنے کی کتنی پوڑیاں

ہیں؟ تین پوڑیاں ایک بچے

کو اور دو پوڑیاں دوسرے

کو دیں تو باقی کتنی رہیں گی؟

۲۰ ایک نارنگی کا مول ۳ پیسے

ہے ۲ نارنگیوں کا مول بناؤ +

۲۱ تین تین کر کے تو تک رگنو +


۲۲ دس پیسوں میں سے دو دو پیسے کتنی

بار نکال سکتے ہیں؟

۲۳ دس نیپلوں سے مختلف شکلیں بناؤ +

۲۴ دس مکعب سے مختلف شکلیں بناؤ +





۲۵ سامنے کی شکل  
میں کتنی ٹوپیاں  
ہیں؟

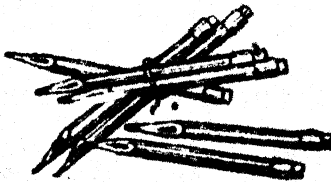
۲۶ اگر ان میں سے دو ٹوپیاں نکال دیں۔  
تو کتنی باقی رہیں گی؟

۲۷ اگر دو ٹوپیاں اور نکال لیں۔ تو کتنی  
باقی رہیں گی؟

۲۸ اس شکل میں دو دو ٹوپیاں کتنی بار ہیں؟

۲۹ اگر ان میں سے تین ٹوپیاں نکال لیں۔  
تو کتنی ٹوپیاں باقی رہیں گی؟

۳۰ تین تین ٹوپیاں کتنی بار ہیں؟  
گن کر بتاؤ:-



۳۱ سامنے کی شکل میں  
کتنی قلمیں ہیں؟

۳۲ ان میں سے ایک ایک فلم گھٹا کر گنو+

# گیارہ سے بیس تک گنتی



دس اور ایک گیارہ ۱۱



دس اور دو بارہ ۱۲



دس اور تین تیرہ ۱۳



دس اور چار چودہ ۱۴



دس اور پانچ پندرہ ۱۵



۱۴ دس اور چھ سولہ



۱۶ دس اور سات سترہ



۱۸ دس اور آٹھ اٹھارہ



۱۹ دس اور نو انیس



۲۰ دو دہائی بیس

ایک ٹیلی۔ ایک قلم۔ ایک دوات۔ ایک گولی  
ہر ایک قسم کی ایک چیز کو اکائی کہتے ہیں۔  
جس طرح چار پیسے کا ایک آنہ ہوتا ہے۔

اُسی طرح دس گوبیوں۔ دس پیسوں۔ دس تیلپوں  
 یعنی دس اکائی کی ایک دہائی ہوتی ہے +  
 گیارہ (۱۱) میں ایک دہائی اور ایک اکائی  
 ہے۔ ایک دہائی کو پائیس طرف اور  
 ایک اکائی کو دائیں طرف لکھا ہے +

دہائی	اکائی
۱	۱

## زبانی سوالات

- ۱ بارہ میں کتنی دہائیاں اور کتنی اکائیاں  
 ہیں؟ بارہ کو ہندسوں میں لکھو +
- ۲ تیرہ میں کتنی دہائیاں اور کتنی اکائیاں  
 ہیں؟ تیرہ کو ہندسوں میں لکھو +
- ۳ چودہ تیلیاں نکالو۔ اور ان سے ایک  
 دہائی بناؤ۔ کتنی اکائیاں باقی رہیں +

- ۴ پنڈرہ کو ہندسوں میں لکھو +
- ۵ سولہ - سترہ - اٹھارہ - انیس کی دہائیاں  
 اور اِکائیاں بنا کر ہندسوں میں لکھو +
- ۶ دس کی دہائی بناؤ۔ باقی کیا رہا؟ دس  
 کو ہندسوں میں لکھو +
- ۷ بیس کی کتنی دہائیاں ہوتی ہیں۔ بیس  
 لکھنے وقت دہائی کی جگہ کیا لکھو گے۔  
 اور اِکائی کی جگہ کیا؟

دس اور بیس میں اِکائی کوئی نہیں  
 ہے۔ اور اس کی جگہ ایک گول نشان (۰)  
 ہے۔ اس کو صفر کہتے ہیں۔ دس اور  
 بیس میں اِکائی کی جگہ پر صفر لکھنے سے  
 یہ مطلب ہے۔ کہ دس اور بیس میں  
 اِکائی کوئی نہیں +

## سوالات نمبر ۱

۱ پڑھو:-

۹، ۱۲، ۱۵، ۱۶ کو +

۲ ہندسوں میں لکھو:-

آٹھ - پندرہ - سترہ - اتریس - بیس کو +

۳ ۱۸ میں ۸ سے کیا مطلب ہے - اور  
۱ سے کیا؟

۴ ۲۰ میں صفر سے کیا مطلب ہے -  
اور ۲ سے کیا؟

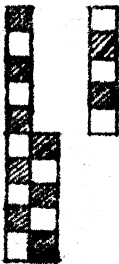
۵ سامنے کی دونو شکلوں

میں کتنے خانے ہیں؟

۶ بڑی شکل میں چھوٹی

شکل سے کتنے خانے

زیادہ ہیں؟



۷ ۱۰ گولیوں میں اور کتنی گولیاں بلائیں۔

کہ ۱۲ بن جائیں ؟

۸ ۹ گولیوں میں اور کتنی گولیاں بلائیں۔

کہ ۱۲ بن جائیں ؟

۹ ۵ کوڑیوں میں اور کتنی کوڑیاں بلائیں۔

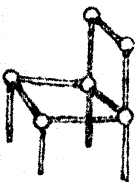
کہ ۱۳ کوڑیاں بن جائیں ؟

۱۰ دو دو ملا کر گولیوں کے چوکھٹے پر

اس طرح گنو :-

ایک اور دو تین تین اور دو پانچ

..... ۱۹ تک



دو اور دو چار چار اور دو


..... ۲۰ تک

۱۱ سرکنڈے کے گودے کی گولیوں اور تیلپوں


سے کڑسی بناؤ۔ اور بتاؤ۔ اس میں کتنی

گودے کی گولیاں اور کتنی تیلپیاں لگیں؟


# ایکس سے تیس تک گنتی




۲۱ بیس اور ایک ایکس




۲۲ بیس اور دو بائیس




۲۳ بیس اور تین تیریس




۲۴ بیس اور چار چوبیس




۲۵ بیس اور پانچ پچیس




۲۴ بیس اور چھ چھیس




۲۶ بیس اور سات ستائیس



۲۸ بیس اور آٹھ اٹھائیس



۲۹ بیس اور نو نوائیس



تین دہائی تیس ۳۰

## زبانی سوالات

۱ چوبیس تیلیاں گنو۔ ان کی دہائیاں

بناؤ۔ کتنی دہائیاں بنیں۔ اور کتنی

تیلیاں باقی رہیں؟

۲ ۲۷ میں ۷ کی کیا قیمت ہے۔ اور ۲

کی کیا؟

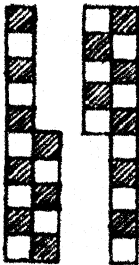
۳ ۳۰ میں صفر سے کیا مطلب ہے؟

۴ تین تین کر کے تیس

تک گنو +

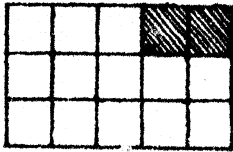
۵ سامنے کی دونو شکلوں

میں گل کتنے خانے ہیں؟



۶ مُرَبَّع کاغذ لو۔ اور شکن ڈال کر اُس کے ۱۲ برابر حصے کرو۔ اُن میں سے ۵ خانے کاٹ لو۔ بناؤ۔ باقی کتنے

رہے؟



۷ ۵ خانے والی شکل میں سے ۲ خانے


نکال دیں۔ تو باقی کتنے رہیں گے؟

۸ ۵ پیسے و ۲ پیسے و ۳ پیسے مل کر کتنے ہوئے؟

۹ پانچ پانچ کر کے تیس تک گنو۔

۱۰ چھ چھ کر کے تیس تک گنو۔


# اکیس سے چالیس تک گنتی




۳۱ اکیس اور ایک



۳۲ بیس اور دو



۳۳ تیس اور تین



۳۴ چونتیس اور چار




۳۵ بیست و پانچ تیس اور پانچ




۳۶ پچیس اور چھ




۳۷ بیست اور سات



۳۸ اڑتیس اور آٹھ



۳۹ اسی تیس اور نو



چار دہائی چالیس نم

## سوالات نمبر ۲

۱ تین دہائیاں اور پانچ اکائیاں مل کر کتنے ہوتے ہیں؟

۲ ۳۲ میں کتنی اکائیاں اور کتنی دہائیاں ہیں؟

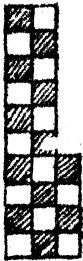
۳ تین دہائیاں اور سات اکائیاں مل کر کتنے ہوئے؟

۴ ۳۸ میں ۸ سے کیا مطلب ہے۔ اور ۳ سے کیا؟

۵ ۲۰ گولیوں میں سے ایک گولی نکال دیں۔ تو باقی کتنی رہیں؟

۶. ۳ گولیوں میں سے ایک گولی نکال دیں۔ تو باقی کتنی رہیں؟

۷. ۴ گولیوں میں سے ایک گولی نکال



دیں۔ تو باقی کتنی رہیں؟

۸. ۳۰ اور ۳۰ کتنے ہوئے؟

۹. سامنے کی دونو شکلوں

میں کُل کتنے خانے ہیں؟

۱۰. چار چار کر کے ۴۰ تک گنو +


۱۱. سامنے کی شکل میں

ہر ایک طرف کتنی

بکٹنی گولیاں ہیں؟

رگن کر بتاؤ۔ ساری

گولیاں کتنی ہیں؟

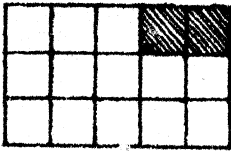


۱۲. پانچ پانچ گولیاں آٹھ جگہ نکالیں۔ تو

کُل کتنی گولیاں ہوں گی؟

۶ مَرَبَّج کاغذ لو۔ اور شکن ڈال کر اُس کے ۱۲ برابر حصے کرو۔ اُن میں سے ۵ خانے کاٹ لو۔ بناؤ۔ باقی کتنے

رہے؟



۷ ۱۵ خانے والی شکل

میں سے ۲ خانے

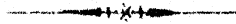
نکال دیں۔ تو باقی کتنے رہیں گے؟

۸ ۵ پیسے و ۲ پیسے و ۳ پیسے مل کر

کتنے ہوئے؟

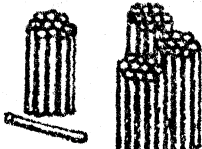
۹ پانچ پانچ کر کے تیس تک گنو +

۱۰ بچھ بچھ کر کے تیس تک گنو +

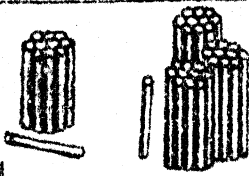


# اگتالیس سے پچاس تک گنتی


۲۰ اور ۱ اگتالیس ۲۱




۲۰ اور ۲ بیالیس ۲۲

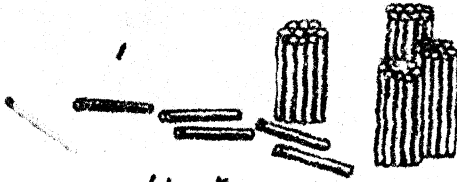


۲۰ اور ۳ پینتالیس ۲۳




۲۰ اور ۴ چوالیس ۲۴

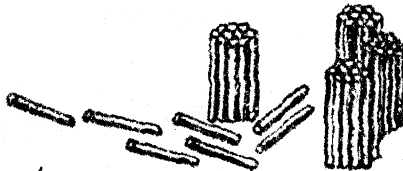




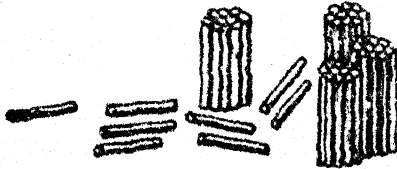
۲۰ اور ۵ پینتالیس ۲۵




۲۰ اور ۶ چھتالیس ۲۶



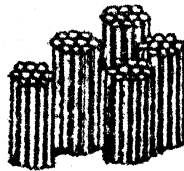
۲۰ اور ۷ سینتالیس ۲۷



۲۰ اور ۸ اڑتالیس ۲۸



۲۹ پنچاس اور ۹ ۲۰




۵۰ پانچ دہائی پنچاس

### سوالات نمبر ۳

- ۱ ۲۰ اور ۲ ہل کر کتنے ہوتے ہیں؟
- ۲ سینتالیس میں کتنی اکائیاں اور کتنی دہائیاں ہیں؟
- ۳ ۲۸ میں ۸ اور ۴ کی قیمت بتاؤ۔
- ۴ ایک کم چالیس کتنے ہوتے ہیں؟

۵ ایک کم پچاس کتنے ہوئے؟  
 ۶ پانچ پانچ کر کے پچاس تک گنو +  
 ۷ ۴۱ سے ۵۰ تک ہر ایک عدد میں




اکائی اور دہائی بتاؤ +  
 ۸ تیس اور آٹھ مل کر  
 کتنے ہوتے ہیں؟

۹ سامنے کی دونو شکلوں  
 میں کتنے خانے ہیں؟

۱۰ چالیس اور آٹھ مل کر کتنے ہوئے؟

۱۱ سامنے کی شکل میں



دس دس خانے کتنی

جگہ ہیں؟

۱۲ باقی کتنے خانے ہیں؟

۱۳ اس میں پانچ پانچ خانے کتنی جگہ ہیں؟


محل کتنے خانے ہیں؟

# اکیاون سے ساٹھ تک گنتی

۵۱	اکیاون	۵۰ اور ۱
۵۲	باون	۵۰ اور ۲
۵۳	ترہپن	۵۰ اور ۳
۵۴	چون	۵۰ اور ۴
۵۵	پچپن	۵۰ اور ۵
۵۶	چھپن	۵۰ اور ۶
۵۷	ستاؤن	۵۰ اور ۷
۵۸	اٹھاون	۵۰ اور ۸
۵۹	انسٹھ	۵۰ اور ۹
۶۰	ساٹھ	۶ دہائی


## سوالات نمبر ۴

۱. ۲۰ اور ۸ ریل کر سکتے ہوتے ہیں ؟
۲. ۵۰ اور ۸ ریل کر سکتے ہوئے ؟
۳. ۵۰ اور ۷ ریل کر سکتے ہوئے ؟
۴. ۵۴ میں رکنتی راکٹیاں اور رکنتی دہائیاں ہیں ؟
۵. ۵۳ میں ۳ سے کیا مطلب ہے اور ۵ سے کیا ؟
۶. ۵۱ سے ۶۰ تک ہر ایک عدد میں راکٹیاں اور دہائیاں بتاؤ +
۷. ایک کم ساٹھ رکنتے ہوتے ہیں ؟
۸. سامنے کی دونو شکلوں میں رکنتے خانے ہیں ؟



۹ سامنے کی شکل میں باہر کی قطار میں

رکٹنی گولیاں ہیں۔ اور  
اندہ کی قطار میں رکٹنی  
گولیاں ہیں؟ گن کر  
بتاؤ۔ دونو قطاروں میں  
کل رکٹنی گولیاں ہیں؟



۱۰ چھ چھ کر کے ساٹھ تک گنو +


۱۱ سامنے کی شکل میں

کل رکٹنے خانے ہیں؟

۱۲ اس میں رکٹنے خانے

کوتور بلائیں۔ کہ ۶۰

بن جائیں؟



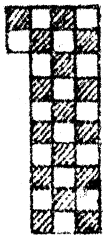

# اکسٹھ سے ستر تک گنتی

۴۱	اکسٹھ	۱ اور ۴۰
۴۲	باسٹھ	۲ اور ۴۰
۴۳	تریسٹھ	۳ اور ۴۰
۴۴	چونسٹھ	۴ اور ۴۰
۴۵	پینسٹھ	۵ اور ۴۰
۴۶	چھبیسٹھ	۶ اور ۴۰
۴۷	ستراسٹھ	۷ اور ۴۰
۴۸	اڑسٹھ	۸ اور ۴۰
۴۹	اٹھتر	۹ اور ۴۰
۵۰	ستر	۱۰ اور ۴۰

## سوالات نمبر ۵

۱. ۶ اور ۳ ریل کر کتنے ہوتے ہیں؟  
 ۲. ۶ اور ۵ ریل کر کتنے ہوتے ہیں؟  
 ۳. ۶۸ میں ۸ سے کیا مطلب ہے اور  
 اور ۶ سے کیا؟

۴. ایک کم ساٹھ کتنے ہوتے ہیں۔ اور  
 اور ایک کم ستر کتنے؟



۵. سامنے کی دونو شکلوں  
 میں کتنے کتنے خانے  
 ہیں۔ اور کل کتنے خانے  
 ہیں؟

۶. ۶۸ میں کتنے اور ملائیں۔ کہ ۰  
 بن جائیں؟

۷. ۰ میں سے ۱۰ نکال دیں۔ تو باقی

رکھنے پچیس گے ؟

- ۸ ۵۰ اور ۲۰ رکھنے ہوتے ہیں ؟  
 ۹ سات سات کر کے ستر تک گنو +  
 ۱۰ دس دس کر کے ستر تک گنو +


۱۱ سامنے کی شکل میں

آٹھ آٹھ خانے رکھتی

بار ہیں ؟

۱۲ اس شکل میں محل

رکھنے خانے ہیں ؟



# اکتتر سے اسی تک گنتی

۷۱	اکتتر	۷۰	اور ۱
۷۲	بہتر	۷۰	اور ۲
۷۳	تہتر	۷۰	اور ۳
۷۴	چوبہتر	۷۰	اور ۴
۷۵	پچھتر	۷۰	اور ۵
۷۶	چھتر	۷۰	اور ۶
۷۷	ستتر	۷۰	اور ۷
۷۸	اٹھتر	۷۰	اور ۸
۷۹	اناسی	۷۰	اور ۹
۸۰	اسی	۸	دہائی

## سوالات نمبر ۶

۱ گوریوں کے چوکھٹے پر ایک ایک کر کے بہتر تک گوریاں رگنو۔ اور اُن کی دھاڑیاں بناؤ۔ بتاؤ۔ کتنی دھاڑیاں بنیں۔  
 ۲۔ کتنی اکائیاں باقی رہیں؟

۲ پچھتر۔ ستتر۔ اٹھتر کو ہندسوں میں لکھو +

۳ ستر اور تین کتنے ہوئے؟

۴ ۷ اور ۸ کتنے ہوئے؟

۵ ۷۹ میں ۷ کی کیا قیمت ہے۔ اور


۹ کی کیا؟

۶ ایک کم ستر کتنے ہوتے ہیں۔ اور

ایک کم اسی کتنے؟

۷ ۶۹، ۷۹، ۸۰، ۷۵، ۸۰ کو پڑھو +

۸ آٹھ آٹھ کر کے اسی تیک رگنو +  
 ۹ دس دس کر کے اسی تیک رگنو +  
 ۱۰ اس شکل میں دس دس خانے کتنی



بار ہیں؟

۱۱ باقی کتنے خانے

ہیں؟

۱۲ کل کتنے خانے

ہیں؟

۱۳ گیارہ گیارہ خانے کتنی جگہ ہیں؟



# اِکپاسی سے نوے تک گنتی

۸۱	اِکپاسی	۱ اور	۸۰
۸۲	بِیاسی	۲ اور	۸۰
۸۳	تِراسی	۳ اور	۸۰
۸۴	چوراسی	۴ اور	۸۰
۸۵	پنچاسی	۵ اور	۸۰
۸۶	چھبیس	۶ اور	۸۰
۸۷	ستّاسی	۷ اور	۸۰
۸۸	اٹھاسی	۸ اور	۸۰
۸۹	نواسی	۹ اور	۸۰
۹۰	نوے	۹ دہائی	

## سوالات نمبر ۷

۱ ۸ دہائی اور ۳ راکائی ریل کر رکھنے ہوئے؟

۲ گوریوں کے چوکھٹے پر ایک ایک کر کے پتھاسی گوریاں رگنو۔ آور ان کی دہائیاں و راکائیاں بناؤ +

۳ ۸۵ ، ۸۶ ، ۸۹ کو پڑھو +



۴ ستاسی۔ پتھاسی۔ اٹھتر کو ہتھسوں میں لکھو +

۵ ستی اور نو رکھنے ہوتے ہیں؟

۶ ۵ اور ۴ ریل کر رکھنے ہوتے ہیں؟

۷ ۳ دہائیاں اور ۶ دہائیاں ریل کر رکھتی دہائیاں ہوئیں؟

۸ تو تو کر کے نوے تک گنو +



۹ اوپر کی شکلوں میں کتنے کتنے خانے

ہیں؟  
۱۰ بڑی شکل میں دوشری سے کتنے  
خانے زیادہ ہیں؟



# ایک سو سے تین سو تک گنتی

۹۱	اک سو	۱ اور	۹۰
۹۲	بیس	۲ اور	۹۰
۹۳	تیس	۳ اور	۹۰
۹۴	چالیس	۴ اور	۹۰
۹۵	پچاس	۵ اور	۹۰
۹۶	سیاس	۶ اور	۹۰
۹۷	ستاس	۷ اور	۹۰
۹۸	اٹھاس	۸ اور	۹۰
۹۹	تین سو	۹ اور	۹۰

## سوالات نمبر ۸

۱ گولیوں کے چوکھٹے پر ایک ایک کر کے بانوے تک گنو۔ اور اُن کی دہائیاں بناؤ۔ کتنی دہائیاں بنیں۔ اور کتنی رکارڈیاں باقی رہیں؟

۲ چوراٹوے۔ ستائوے۔ پچائوے کو ہندسوں میں لکھو +

۳ ۹۲، ۹۸، ۹۱ کو پڑھو +


۴ نو دہائیاں اور تین اکائیاں مل کر کتنے ہوتے؟

۵ اسی اور نو کتنے ہوتے ہیں؟ نوے اور نو کتنے ہوتے؟

۶ ۹۷ میں ۷ سے کیا مطلب ہے۔ اور ۹ سے کیا؟

۷ ۹۶ میں رکنتی اکائیاں اور رکنتی دہائیاں  
ہیں؟

۸ نوے میں رکنتے ملاءیں۔ کہ چوراٹوے  
بن جائیں؟



۹ اوپر کی شکل میں آٹھ آٹھ خانوں کی



ہر ایک طرف رکنتی رکنتی قطاریں ہیں؟

۱۰ رگن کر بتاؤ۔ ہر ایک طرف رکنتے رکنتے

خانے ہیں؟

۱۱ رگن کر بتاؤ۔ کُل رکنتے خانے ہیں؟

# ایک سو




۱۰۰

جس طرح دس اکائیوں میں مل کر ایک  
دہائی ہوتی ہے۔ اسی طرح دس دہائیوں  
کو ملانے سے ایک سو یا سینکڑا  
بنتا ہے۔ جیسا کہ شکل سے ظاہر ہے۔  
ایک سو لکھنے کے لئے اکائی کی جگہ  
صفر (۰) اور دہائی کی جگہ صفر (۰)

کھتے ہیں۔ اور دونو درجوں کی بائیں  
 طرف سے لکھتے ہیں۔ اس کا یہ مطلب ہے  
 کہ اکائی پچھ نہیں۔ دہائی کھی کچھ  
 نہیں۔ اور سینکڑا ایک ہے۔

## سوالات نمبر ۹


- ۱۔ تمہاری جماعت میں کتنے لڑکے ہیں؟
- ۲۔ تمہارے ہاتھ اور پیروں میں کتنے انگلیں  
 انگلیاں ہیں؟
- ۳۔ اپنے کمرے کے دروازے اور کھڑکیاں  
 کتنے ہیں؟



۴۔ اس شکل میں کتنے  
 کتنے خانے ہیں؟

۵۔ بیچ کے چار خانے  
 چھوڑ کر باقی کتنے خانے ہیں؟

- ۶ دو دو جوڑ کر تیس تک گنو +  
 ۷ تین تین جوڑ کر تیس تک گنو +  
 ۸ چار چار جوڑ کر چالیس تک گنو +  
 ۹ پانچ پانچ جوڑ کر پچاس تک گنو +  
 ۱۰ چھ چھ جوڑ کر ساٹھ تک گنو +  
 ۱۱ سات سات جوڑ کر ستر تک گنو +  
 ۱۲ آٹھ آٹھ جوڑ کر اسی تک گنو +  
 ۱۳ نو نو جوڑ کر نوے تک گنو +  
 ۱۴ دس دس جوڑ کر سو تک گنو +



- ۱۵ اس صندوقچے کے  
 رکٹنے خانے ہیں۔ اگر  
 ہر ایک خانے میں دو  
 دو پیسے ہوں۔ تو کل رکٹنے پیسے ہیں؟  
 ۱۶ ۲۵ لڈو اور ۱۵ لڈو مل کر رکٹنے  
 ہوئے؟

۱۷ ۲۰ آم اور ۳۰ آم ریل کر رکھتے ہوئے؟

۱۸ اگر ۱۸ سیبوں میں ۳۲ سیب ملائیں۔

تو کھل رکھتے سیب ہوں گے؟

۱۹ ۲۲ پیسے اور ۲۸ پیسے ریل کر رکھتے

ہوتے ہیں؟

۲۰ ۳۹ روپوں میں ۲۱ روپے اور ڈالے

گل رکھتے روپے ہو گئے؟

۲۱ خالی خانوں میں ایسا عدد لکھو۔ کہ

دونوں عددوں کا جوڑ ۲۰ ہو \*

	۱۲
--	----

	۱۵
--	----


	۱۰
--	----

۲۲ ۳ راکٹی اور ۲ اکائی ریل کر رکھتے ہوئے؟

۲۳ ۳ راکٹی اور ۲ دہائی ریل کر رکھتے ہوئے؟

۲۴ ۵ راکٹی اور ۲ اکائی ریل کر رکھتے ہوئے؟

۲۵ ۵ اکائی اور ۲ دہائی ریل کر رکھتے ہوئے؟



۲۶ سائے کی شکلوں  
میں رکھنے رکھنے خانے  
ہیں۔ اور دونو  
شکلوں میں کل رکھنے  
خانے ہیں؟

۲ اور ۳ ریل کر ۵ ہوتے ہیں۔ اسے  
اس طرح رکھتے ہیں  $۲ + ۳$  ریل کر  
۵ ہوتے ہیں؟

۲۷  $۲ + ۵$  رکھنے؟  $۸ + ۱۲$  رکھنے؟

$۵ + ۱۵$  رکھنے؟  $۱۵ + ۲۵$  رکھنے؟

۵ میں سے ۲ گئے۔ باقی رہے ۳ اسے

اس طرح رکھتے ہیں  $۲ - ۵$  برابر  $۲ + ۳$

۲۸  $۵ - ۱۵$  رکھنے؟  $۲۰ - ۲۷$  رکھنے؟

$۲۰ - ۳۰$  رکھنے؟  $۱۵ - ۳۵$  رکھنے؟

۲۹ ایک لڑکے کے پاس ۲۵ بیر ہیں۔

دو ٹوکے کے پاس ۱۰ بیر ہئیں۔ دونو  
کے پاس رکٹنے بیر ہئیں؟

۳۰ سوس دس پیسے کی تہین قطار میں  
بناؤ۔ گل رکٹنے پیسے ہموئے؟

۳۱ ایک ٹوکے میں ۲۵ آم تھے۔  
۵ آم رام نے کھائے۔ باقی رکٹنے آم


رہے؟

۳۲ پانچ پانچ لٹو دس لٹوکوں کو دئے۔  
گل رکٹنے لٹو دئے؟

# پہاڑے

## دو کا پہاڑے

ایک ایک انار دو جگہ  
۲ ایکن ۲




دو دو آم دو جگہ  
۲ دوئے ۲




تین تین ناشپاتیاں دو جگہ  
۲ تئے ۲



چار چار سیب دو جگہ  
۲ چوکے ۸



پانچ پانچ آڑو دو جگہ  
۲ پنجے ۱۰




پچھ ہتھ رانچیر دو جگہ  
۲ پچھکے ۱۲




سات سات امرود دو جگہ  
۲ ستے ۱۲



آٹھ آٹھ بیر دو جگہ  
۲ اٹھے ۱۶



تو تو آلوچے دو جگہ  
۲ نائے ۱۸



دس دس انگور وہ جگہ  
۲ دہائے ۲۰



## تین کا پہاڑ

۳	تین ایک			
۶	تین دو			
۹	تین تین			
۱۲	تین چوکے			
۱۵	تین پنجے			
۱۸	تین چھکے			
۲۱	تین ستے			
۲۴	تین اٹھے			
۲۷	تین نائے			
۳۰	تین دھائے			

نوٹ - یہ پہاڑ اس طرح پڑھایا جائے -  
 ایک ایک کبیر تین جگہ کتنی لکیریں ہوں گی -  
 تین ایک کتنے ہوں گے؟ دو دو لکیریں تین بار

دو شہرے کے پاس ۱۰ بیرہیں - دونوں  
کے پاس رکھنے بیرہیں؟

۳۰ دس دس پیسے کی تین قطاریں  
بناؤ۔ کل رکھنے پیسے، سوئے؟

۳۱ ایک ٹوکرے میں ۲۵ آم تھے۔

۵ آم رام نے کھائے۔ باقی رکھنے ہم

رہے؟

۳۲ پانچ پانچ لٹو دس لٹوکوں کو دئے۔

کل رکھنے لٹو دئے؟

چار جگہ	تبدیلیاں	پانچ	پانچ
۲۰	پہنچے	۴	۴
چار جگہ	تبدیلیاں	چھ	چھ
۲۴	چھٹے	۴	۴
چار جگہ	تبدیلیاں	سات	سات
۲۸	ساتھ	۴	۴
چار جگہ	تبدیلیاں	آٹھ	آٹھ
۳۲	آٹھ	۴	۴
چار جگہ	تبدیلیاں	نو	نو
۳۶	نوائے	۴	۴
چار جگہ	تبدیلیاں	دس	دس
۴۰	دھائے	۴	۴




## سوالات نمبر ۱۰



- ۱ سامنے کی شکل میں تین تین خانے کتنی جگہ ہیں؟
- ۲ کُل کتنے خانے ہیں؟
- ۳ چھ تہے کتنے اور نو تہے کتنے؟


۴ سامنے کی شکل میں



چھ چھ خانے کتنی بار  
ہیں؟

- ۵ پانچ چھکے کتنے ہوئے؟
- ۶ اس میں پانچ پانچ خانے کتنی بار  
ہیں؟

- ۷ چھ پٹھے کتنے ہوئے؟
- ۸ اس شکل میں تین تین خانے کتنی  
بار ہیں؟



۹ سامنے کی شکل میں دس  
دس خانوں کی رکھتی قطاریں  
ہیں؟

۱۰ باقی رکھنے خانے ہیں؟

۱۱ کُل خانے رکھتے ہیں؟

۱۲ رکھتے خانے اور ہوں۔ کہ دس دس

خانوں کی پانچ قطاریں بن جائیں؟

۱۳ دس دس خانوں کی پانچ قطاروں

میں کُل رکھتے خانے ہوں گے؟

۱۴ شکل میں پانچ پانچ خانوں کی رکھتی

قطاریں ہیں؟

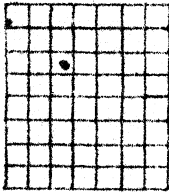
۱۵ باقی رکھتے خانے ہیں؟

۱۶ پانچ پانچ خانوں کی نو قطاریں بنانے

کے لئے اور رکھتے خانے درکار ہوتے؟

۱۷ اور پھر کُل شکل میں رکھتے خانے

ہوں گے؟



۱۸ اس شکل میں سات  
سات خانوں کی کتنی

قطاریں ہیں؟

۱۹ گل کتنے خانے ہیں؟

۲۰ آٹھ آٹھ خانوں کی کتنی قطاریں ہیں؟

۲۱ اس شکل میں چار ستے دکھاؤ۔ چار ستے

میں کتنے خانے ہیں؟

۲۲ چار چار گولیاں پانچ جگہ گل کتنی

گولیاں ہوئیں؟


۲۳ دو دو پیسے تو لڑکوں کو دے۔ گل

کتنے پیسے دے؟

۲۴ آٹھ آٹھ آم چار لڑکوں نے مول

رلے۔ گل کتنے آم مول رلے؟

## منتفرق سوالات نمبر ۱۱



۱ سائے کی شکل میں محل  
کتنے خانے ہیں۔ اکائیاں  
کتنی ہیں۔ اور دہائیاں  
کتنی؟

خالی جگہوں میں کوئی عدد لکھ کر طلبا  
سے سوالات پوچھو \*

۲ ایک آدمی دس دس پنسلوں کے بندل  
بناتا ہے۔ بتاؤ۔ پنسلوں کے کتنے  
بندل بنیں گے۔ اور کتنی پنسلیں باقی  
رہیں گی؟


۳ دس دس پنسلوں کے بندل اور  
پنسلیں مل کر محل کتنی پنسلیں ہوں گی؟

۴ ایک لڑکا پیسے روز جمع کرتا ہے۔

دونوں میں کتنے پیسے جمع کرے گا؟

۵ سامنے کی شکل میں کتنی

پنسلیں ہیں۔ اگر ان میں سے پنسلیں نکال لیں۔



تو باقی کتنی پنسلیں رہیں گی؟

۶ اگر ایک بٹوے میں روپے ہوں۔

تو ایسے بٹووں میں کتنے روپے

ہوں گے؟

۷ ایک ہفتہ میں ۷ دن ہوتے ہیں۔

تو ہفتوں میں کتنے دن ہوں گے؟

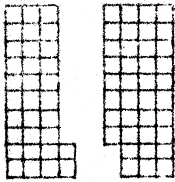
۸ سامنے کی شکل میں

کتنی گیندیں ہیں۔ اگر

ہر ایک گیند کی قیمت پیسے ہو۔ تو

کل گیندوں کے دام بتاؤ \*

۹ سامنے کی دو شکلوں میں کتنے



کتنے خانے ہیں؟

۱۰ دونوں شکلوں میں کتنے

خانے ہیں؟

۱۱ بڑی شکل میں چھوٹی شکل سے کتنے

خانے زیادہ ہیں؟

۱۲ روپوں کی قطاروں میں

کتنے روپے ہوں گے؟

۱۳ رام سے ہر نام قدم کے فاصلے

پر کھڑا ہے۔ اور شام سے قدم

کے فاصلے پر



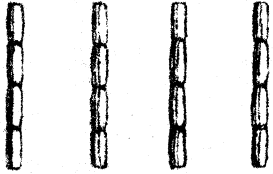
ہے۔ بتاؤ۔

رام اور شام

کے درمیان کتنے قدم کا فاصلہ ہے؟

۱۴ نارنگیوں سے نارنگیوں

کی رکٹنی ڈھیریاں بنیں گئی؟  
 ۱۵ اس شکل میں گل رکٹنے بانس برابر  
 برابر فاصلے پر ہیں۔ اگر پہلا بانس  
 آخری بانس سے قدم کے فاصلے  
 پر ہو۔ تو بتاؤ۔



پاس کے دو بانسوں  
 کے درمیان کتنا فاصلہ  
 ہے؟

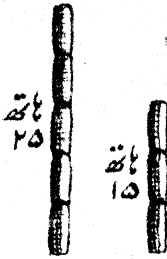
۱۶ ان شکلوں کے بیچ کے خانوں میں  
 ایسا عدد لکھو۔ کہ تینوں عددوں کو  
 ملانے سے ۲۰ ہو جائیں۔

۹	۰	۵
---	---	---

۷	۵
---	---

۲	۱۰
---	----


۱۷ ایک کتاب کی قیمت آنے ہے۔  
 تو ایسی کتابوں کے کیا دام



ہوں گے؟  
۱۸. سامنے کی شکل میں  
دونوں باتھوں کی شکل  
رکھنی لٹائی ہے؟

۱۹. بڑا باتھ چھوٹے باتھ سے کتنا بڑا  
ہے؟

۲۰. سامنے کی  
شکل کے




چاروں طرف  
پھرنے میں رکھنی دُور چلنا پڑے گا؟  
۲۱. ایک کبیاری ۱۸ قدم لمبی ہے۔ اُس  
میں تین تین قدم کے فاصلے پر گلاب  
کے پودے لگانے ہیں۔ بتاؤ۔ شکل رکھنے  
پودے لگیں گے (پہلا پودا سرے پر  
ہو)؟

۲۲ ایک بڑتن میں ۲۰ سیر دُود ہے۔ اگر



۲ سیر کا لوٹا بھر بھر کر  
دُود نکالیں۔ تو کتنے لوٹے  
دُود کے نکلیں گے ؟

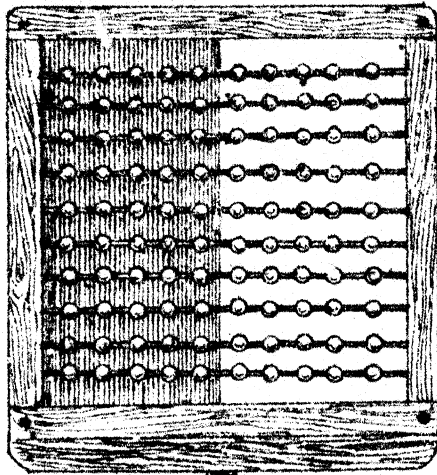


۲۳ اس شکل میں  
پانچ پانچ خانے  
کتنی بار ہیں۔

اور آٹھ آٹھ خانے کتنی بار ؟

۲۴ چار چار لڑکوں کی پانچ قطاریں بناؤ۔  
اور بناؤ۔ ان میں کُل کتنے لڑکے ہیں ؟

۲۵ ۲۴ تیلیاں نکالو۔ اور چھ چھ کر کے  
رگنو۔ کتنے چھتے بنے ؟



۱۰۰

ایک شو

گوریوں کا چوکھٹا





